



**ЗАДАНИЯ ДЛЯ ОБУЧАЮЩИХСЯ**

**Время выполнения заданий – 90 минут**


**Максимальное количество баллов – 100 баллов**

**ТЕСТОВЫЙ ТУР (25 БАЛЛОВ)**

**Время выполнения заданий – 30 минут**

1. Какой из перечисленных народов проживает в Европе? (1 балл)
  - 1) хакасы;
  - 2) калмыки;
  - 3) шорцы;
  - 4) коряки.
2. Какой из перечисленных заливов расположен в Тихом океане? (1 балл)
  - 1) Финский;
  - 2) Кандалакшский;
  - 3) Шелихова;
  - 4) Обская губа.
3. Какими морями омывается полуостров Таймыр? (1 балл)
  - 1) Карское и Восточно-Сибирское;
  - 2) Карское и Баренцево;
  - 3) Карское и Лаптевых;
  - 4) Лаптевых и Баренцево.
4. Какой из перечисленных городов России не является миллионником? (1 балл)
  - 1) Уфа;
  - 2) Красноярск;
  - 3) Волгоград;
  - 4) Иркутск.
5. Расположите устья рек России с севера на юг (запишите получившуюся последовательность цифр) (2 балла)
  - 3 1) Волга;
  - 2 2) Обь;
  - 4 3) Лена;
  - 4 4) Амур.
6. Какой из перечисленных субъектов Российской Федерации больше по площади? (1 балл)
  - 1) Тюменская область;

- 2) Иркутская область;  
3) Магаданская область;  
4) Амурская область.
7. Какая форма рельефа изображена на рисунке? (1 балл)
- 1) горы Алтай;  
2) Ключевская Сопка;  
3) Среднерусская возвышенность;  
4) Сихотэ-Алинь.



8. В каком из перечисленных городов России зимы наиболее холодные? (1 балл)
- 1) Хабаровск;  
2) Якутск;  
3) Омск;  
4) Нижний Новгород.
9. Какая река впадает в Восточно-Сибирское море? (1 балл)
- 1) Лена;  
2) Колыма;  
3) Печора;  
4) Хатанга.
10. Расположите перечисленные горные системы в порядке убывания их высоты, начиная от самых высоких. Запишите получившуюся последовательность цифр (2 балла)
- 2 1) хребет Черского;  
3 2) горы Бырранга;  
1 3) Алтай;  
4 4) Уральские.

11. Установите соответствие между реками и их притоками, которые в них впадают (2 балла).

- |                    |           |       |
|--------------------|-----------|-------|
| 1) Нижняя Тунгуска | А) Обь    | 1-Г   |
| 2) Чулым           | Б) Амур   | 2-А   |
| 3) Усури           | В) Волга  | 3-Б   |
| 4) Кострома        | Г) Енисей | 4-В 2 |

12. Какой из перечисленных городов России не расположен на реке Волга? (1 балл)

- 1) Тамбов;  
2) Самара;  
3) Астрахань;  
4) Нижний Новгород;

13. Установите соответствие между морями России, реками, которые в них впадают, и городами, расположенными на их побережьях (5 баллов).

1. Г. IV, 2. В. III, 3. А. II, 4. Б. I. 2, 3

Море	Река, которая впадает	Город на побережье
1. Лаптевых	а) Кубань	I. Магадан
2. Карское	б) Амур	II. Севастополь
3. Черное	в) Енисей	III. Тикси
4. Охотское	г) Лена	IV. Диксон

14. Установите соответствие между субъектами Российской Федерации, их центрами и странами, с которыми они граничат (5 баллов).

1. В. II, 2. Г. I, 3. А. IV, 4. Б. III.

Субъект РФ	Центр	Пограничная страна
1. Алтайский край	А. Кызыл	I. Китай
2. Приморский край	Б. Петрозаводск	II. Казахстан
3. Республика Тыва	В. Барнаул	III. Финляндия
4. Республика Карелия	Г. Владивосток	IV. Монголия

### ТЕСТОВЫЙ ТУР (75 БАЛЛОВ)

Время выполнения заданий – 60 минут


Задание 1 (20 баллов).

Прочитайте текст и выполните задания

Интересные факты об озере

Это озеро самое большое на Дальнем Востоке. Оно расположено в регионе, граничащем с другим государством.

Название озера произошло от искаженного китайского слова, что значит впадина. И действительно, озеро расположено в естественной впадине и образовалось миллионы лет назад благодаря тектоническим процессам.



Особенность водоема – необычный желтоватый оттенок воды. Это взвесь глины и ила. Озеро довольно мелкое и над его поверхностью дуют сильные ветра, поднимающие муть со дна;

Озеро уникально тем, что его площадь может существенно меняться из-за климатических условий в конкретное время. Средняя площадь – 4070 кв. км, а в отдельные годы она может возрасти до 5 тыс. или уменьшиться до 3,9 тыс. кв. км.

Главная гордость озера – плантации растения, который считается священным цветком Востока, занесено в Красную книгу России.

В жаркое время года температура воды в озере достигает +30°C, поэтому оно часто зацветает.

Часть акватории водоема входит в одноименный заповедник, который имеет свое продолжение в соседнем государстве.

Озеро весьма популярно среди туристов благодаря наличию песчаных пляжей и сухой и теплой погоде, которая устанавливается уже в конце мая.

Из-за сильных ветров, которые дуют на озере весной и в начале лета, тут очень популярен виндсерфинг.

Озеро славится обилием рыбы – более 60 видов. Самая ценная – сазан. А самая оригинальная – змееголов. Уникальность этой рыбы заключается в том, что она способна прожить в мокрой траве около 4 дней.

(по материалам Дзэна, «Маленькие путешествия»)

**Определите:**

- 1) О каком озере идет речь; *Байсал*
- 2) Субъект Российской Федерации, в котором находится озеро;
- 3) На территории какого государства находится часть этого водоема;
- 4) О каком растении идет речь.


- 3) Часть озера находится на территории Казахстана.
- 4) О растении – лотос или «плантация растения, священного цветком Востока занесен в красную книгу России.
- 2) Озеро находится в Казахстане, в его восточной части.

**Задание 2 (15 баллов).**

Определите по очертаниям названия озёр России, для каждого определите, в каком субъекте (или субъектах) находится, и происхождение озера. Для точного определения названия озера воспользуйтесь приведенными ниже подсказками.

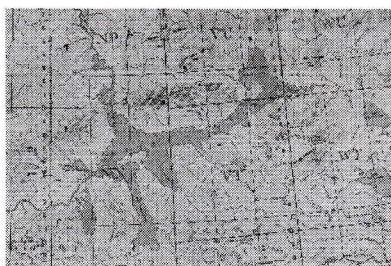
1

Ладожское



2

Таймыр



3

Каспийское



4

Байкал



5

Банскунлак



5

Подсказки:

(Самое глубокое озеро мира. Самое большое по площади озеро в мире. Это озеро называют «всероссийской солонкой» из-за огромного содержания в нем солей. Это озеро расположено на одноименном полуострове. Это озеро самое крупное по площади в Европе среди пресноводных озер.)

**Задание 3 (15 баллов).**

Пользуясь знаниями по географии, найдите ошибочный элемент в каждом логическом ряду. Обоснуйте своё исключение. Приведите название ещё одного объекта для продолжения логического ряда. Учтите, что все географические объекты должны характеризовать особенности географии. Ответы запишите в таблицу.

Например:

*Карское, Берингово, Лаптевых, Баренцево.*

*Лишнее – Берингово, так как расположено в Тихом океане, остальные в Северном Ледовитом. Еще один объект – любое море Северного Ледовитого океана, кроме перечисленных выше.*

**Вопросы:**

- 2 1. Индостан, Аравийский, Шри-Ланка, Индокитай. *остальные принадлежат Азии, а Индостан – это Индия, а Индокитай – это Индонезия.*
2. Байрон, Кабу-Бранку, Челюскин, Дежнева. *все эти моря на севере и от них западных.*
3. Дон, Дунай, Волга, Нева. *русские реки, а Дунай – европейский.*
- 2 4. Азовское, Белое, Черное, Охотское. *внутренние моря Осеана.*
- 2 5. Альпы, Алтай, Саяны, Уральские. *море Тихого океана. – все горные системы, а Альпы горы в Европе.*

**Задание 4 (15 баллов).**

Это островное государство, занимающее самый крупный остров у берегов второго по величине материка. Расположено в южном полушарии, от материка отделено самым длинным проливом на Земле. Здесь обитают уникальные животные эндемики, родичи обезьян. Название столицы с местного языка переводится как «тысяча селений».

**Вопросы:**

- 3 1. Определите, как называется остров. *Мадагаскар*
- 3 2. Каково происхождение острова? *вулканического и континентального происхождения.*
- 3 3. Какой пролив отделяет остров от материка? *Мозамбикский пролив*
- 3 4. О каких животных идет речь? *Лемуры, родичи обезьян, коты. Больше нигде не встречаются.*
- 3 5. Назовите столицу этого государства. *Антананариву – переводится как "тысяча селений" с местного языка Мадагаскара.*

**Задание 5 (10 баллов).**

**Прочитайте текст и определите, о каком памятнике природы Омской области идет речь.**

На севере Омской области, есть живописная гора, возле горы тихое лесное озеро в виде подковы. Вроде ничего такого не обычного, но крайне интересное у неё название. Относится она и к народу ... и к народам намного древнее их самих. Является древним языческим святилищем.

Это святилище эпохи бронзы. Расположена она на левом берегу Иртыша, возле озера Ныр (которое является старицей Иртыша), заселялась несколько раз, впервые люди там появились примерно 3 тысячи лет назад (в последней четверти 2 - го тысячелетия) и было это место скорее древним

*Чудская гора.*

*10*

*О природном памятнике Омской области – древнем языческом святилище эпохи бронзы расположенном на левом берегу Иртыша, возле озера Ныр, Севернее Омска.*

святилищем. При раскопках были найдены кости людей, которые скорее всего были принесены в жертву. Также в одной из землянок того периода, найден бронзовый плоский идол божества.

Относят их к Сузгунской культуре. Раскопаны 8 сооружений, которые представляют собой узкие полуземлянки, размером 4-5 метров. На полу сооружений обнаружены кострища и кирпичи овальной и полу квадратной формы, а также ямы с золой и обиженными костями. Вот в этих ямах и встречаются человеческие кости, а также скопления черепов и конечностей животных, чешуя и кости рыб, орудия труда. В каждой из землянок найдено от 22 до 46 сосудов, а за три года раскопок 140 цельных горшков (раскопки проходили с 1974 - 1977 год) и 20 тысяч осколков керамики (самое интересное, что осколки ещё не всё изъяты, когда я сам там был, то заметил, что на местах старых раскопов валяется огромное количество глиняных черепков). Сосуды довольно крупные, 6 - 8 литров, в которых возможно приносили пищу для подношения богам. Многие сосуды имеют орнамент (зигзаги, ряды насечек, ямки, поперечные штриховки).

Очень много найдено бронзовых предметов: наконечники стрел, ножи. Костяные наконечники стрел, накладки для лука. Глиняные находки (грузила, пряслица, бусы, шарики), каменные топоры и бронзовые точильные и материалы литейного производства.

Исследования эпохи бронзового века показывают, что гора являлась скорее местом поклонения богам, т. е. капищем, чем поселением. Место топографически расположено на высокой горе... В весеннее время эта гора превращалась в остров из-за паводка. С юга и востока протекал Иртыш, с запада протекала речка, сейчас от не остался небольшой ручей.

Следующее заселение относят к концу второго тысячелетия, началу первого тысячелетия. Сузгунская культура ушла и на их место пришла Завьяловская культура. Переход от бронзы, к раннему железному веку. Долго они там не задержались. От них осталась керамика с крестовой орнаментацией, оставили её немного, поэтому учёные считают, что они были там недолго.

*(по материалам Дзэна,  
автор HISTORIKAL)*

